

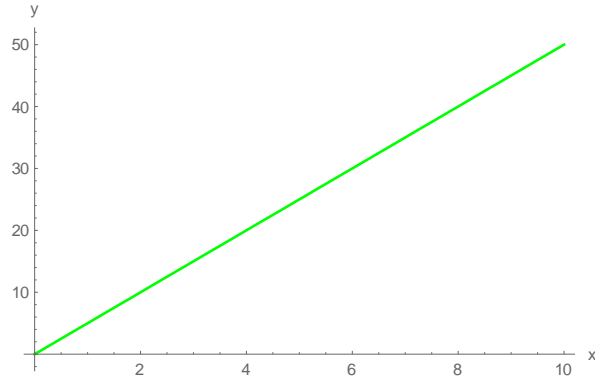
T1. MEDIDA Y MÉTODO CIENTÍFICO

13. Tras realizar diferentes experimentos, se comprueba que las relaciones entre las respectivas variables dependientes e independientes son:

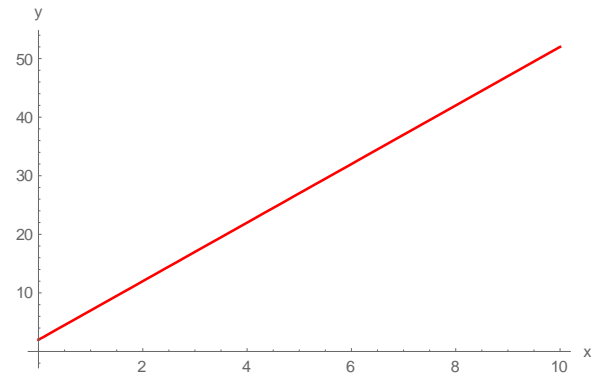
a) $y = 5x$; b) $y = 5x + 2$; c) $y = 10/x$; d) $y = 2x^2$

¿Qué tipo de gráfica corresponde a cada una de las relaciones?

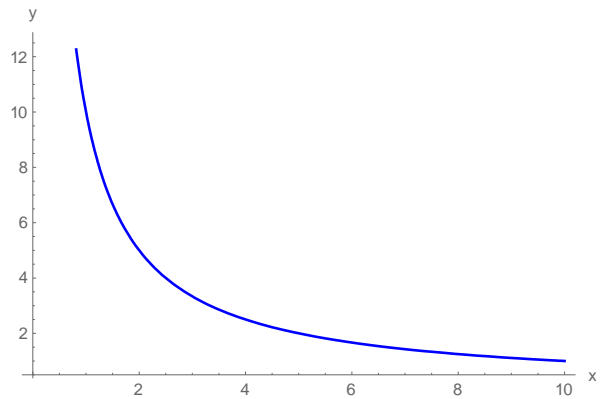
LÍNEA RECTA QUE PASA POR EL ORIGEN DE COOERDENADAS



LÍNEA RECTA QUE NO PASA POR EL ORIGEN DE COOERDENADAS



HIPÉRBOLA



PARÁBOLA

